

## Průběh obhajoby bakalářské práce:

Čím vidíte rozdíl ve znázornění trajektoriků  
či čtyřúhelníků ve hře France oproti znázornění  
jednoduchých křad, např. ve hře Portugalska?

Čím si vysvětlíte rozdíl mezi rozestavením  
Walesu 5:3:2 a 3:5:2?




Provéďte komparaci charakteristik rozestavení  
sledovaných týmů při zahájení útočné fáze  
(viz str. 69, obr. 100-103).

Klasifikace:

..... výborně .....

Datum obhajoby:

..... 11. 6. 2018 .....

ZEMAN, D.   
SRANCOVA BENEŠOVÁ   
podpis zkoušejícího